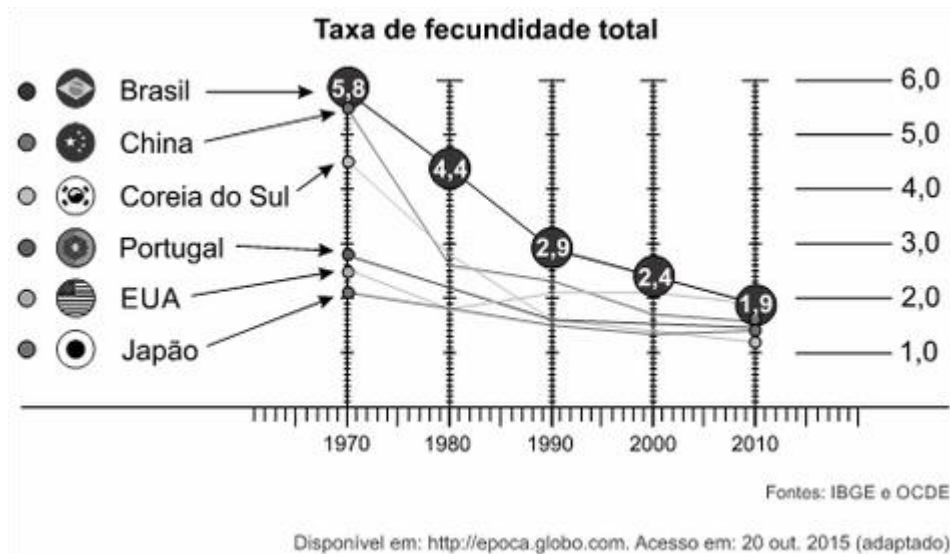


SIMULADO AGOSTO GEOGRAFIA IRADA

1.(Enem 2016) O número de filhos por casal diminui rapidamente. Para a maioria dos economistas, isso representa um alerta para o futuro.



Uma consequência socioeconômica para os países que vivenciam o fenômeno demográfico ilustrado é a diminuição da

- a) oferta de mão de obra nacional.
- b) média de expectativa de vida.
- c) disponibilidade de serviços de saúde.
- d) despesa de natureza previdenciária.
- e) imigração de trabalhadores qualificados.

2. (Enem 2016) O Rio de Janeiro tem projeção imediata no próprio estado e no Espírito Santo, em parcela do sul do estado da Bahia, e na Zona da Mata, em Minas Gerais, onde tem influência dividida com Belo Horizonte. Compõem a rede urbana do Rio de Janeiro, entre outras cidades: Vitória, Juiz de Fora, Cachoeiro de Itapemirim, Campos dos Goytacazes, Volta Redonda – Barra Mansa, Teixeira de Freitas, Angra dos Reis e Teresópolis.

O conceito que expressa a relação entre o espaço apresentado e a cidade do Rio de Janeiro é:

- a) Frente pioneira.
- b) Zona de transição.
- c) Região polarizada.
- d) Área de conurbação.
- e) Periferia metropolitana.

3. (Enem 2016) Participei de uma entrevista com o músico Renato Teixeira. Certa hora, alguém pediu para listar as diferenças entre a música sertaneja antiga e a atual. A resposta dele surpreendeu a todos: “Não há diferença alguma. A música caipira sempre foi a mesma. É uma música que espelha a vida do homem no campo, e a música não mente. O que mudou não foi a música, mas a vida no campo”. Faz todo sentido: a música caipira de raiz exalava uma solidão, um certo distanciamento do país “moderno”. Exigir o mesmo de uma música feita

SIMULADO AGOSTO GEOGRAFIA IRADA

hoje, num interior conectado, globalizado e rico como o que temos, é impossível. Para o bem ou para o mal, a música reflete seu próprio tempo. BARCINSKI. A. Mudou a música ou mudaram os caipiras? *Folha de São Paulo*, 4 jun. 2012 (adaptado).

A questão cultural indicada no texto ressalta o seguinte aspecto socioeconômico do atual campo brasileiro:

- a) Crescimento do sistema de produção extensiva.
- b) Expansão de atividades das novas ruralidades.**
- c) Persistência de relações de trabalho compulsório.
- d) Contenção da política de subsídios agrícolas.
- e) Fortalecimento do modelo de organização cooperativa.

4. (Enem 2016)



Conforme a análise do documento cartográfico, a área de concentração das usinas de dessalinização é explicada pelo(a)

- a) pioneirismo tecnológico.
- b) condição hidropedológica.
- c) escassez de água potável.**
- d) efeito das mudanças climáticas.
- e) busca da sustentabilidade ambiental.

5. O bioma Cerrado foi considerado recentemente um dos 25 *hotspots* de biodiversidade do mundo, segundo uma análise em escala mundial das regiões biogeográficas sobre áreas globais prioritárias para conservação. O conceito de *hotspot* foi criado tendo em vista a escassez de recursos direcionados para conservação, como objetivo de apresentar os chamados “pontos quentes”, ou seja, locais para os quais existe maior necessidade de direcionamento de esforços, buscando evitar a extinção de muitas espécies que estão altamente ameaçadas por ações antrópicas.

SIMULADO AGOSTO GEOGRAFIA IRADA

PINTO, P.P.; DINIZ-FILHO, J. A. F. In: ALMEIDA, M. G. (Org.). *Tantos cerrados: múltiplas abordagens sobre a biogeodiversidade e singularidade cultural*. Goiânia: Vieira. 2005 (adaptado).

A necessidade desse tipo de ação na área mencionada tem como causa a

- a) intensificação da atividade turística.
- b) implantação de parques ecológicos.
- c) exploração dos recursos minerais.
- d) elevação do extrativismo vegetal.
- e) expansão da fronteira agrícola.**

6. A linhagem dos primeiros críticos ambientais brasileiros não praticou o elogio laudatório da beleza e da grandeza do meio natural brasileiro. O meio natural foi elogiado por sua riqueza e potencial econômico, sendo sua destruição interpretada como um signo de atraso, ignorância e falta de cuidado.

PADUA, J. A. *Um sopro de destruição: pensamento político e crítica ambiental no Brasil escravista (1786-1888)*. Rio de Janeiro: Zahar, 2002 (adaptado).

Descrevendo a posição dos críticos ambientais brasileiros dos séculos XVIII e XIX, o autor demonstra que, via de regra, eles viam o meio natural como

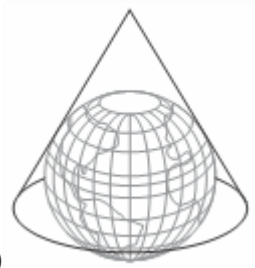
- a) ferramenta essencial para o avanço da nação.**
- b) dádiva divina para o desenvolvimento industrial.
- c) paisagem privilegiada para a valorização fundiária.
- d) limitação topográfica para a promoção da urbanização.
- e) obstáculo climático para o estabelecimento da civilização.

7. A ONU faz referência a uma projeção cartográfica em seu logotipo. A figura que ilustra o modelo dessa projeção é:



a)

SIMULADO AGOSTO GEOGRAFIA IRADA



b)



c)



d)



e)

8. Leia as afirmativas abaixo sobre a hidrografia brasileira.

- I. É a maior bacia hidrográfica totalmente brasileira e é a segunda em produção de energia do Brasil.
- II. O relevo ao longo da bacia é considerado monótono, com altitudes variando entre 200m e 500m em média, exceto nas nascentes, onde chega a mais de 1.000m.
- III. A região desta bacia hidrográfica vem sofrendo problemas ambientais gerados pela exploração mineral e aumento das atividades agrícolas.
- IV. A configuração da bacia é alongada no sentido longitudinal Sul-Norte, seguindo os dois eixos fluviais, que se unem no extremo norte da bacia e deságuam na Baía da Ilha de Marajó.

É **CORRETO** afirmar que estas características referem-se à Bacia do:

- A) TOCANTINS – ARAGUAIA**
- B) PARANÁ
- C) AMAZÔNICA
- D) URUGUAI
- E) SÃO FRANCISCO

SIMULADO AGOSTO GEOGRAFIA IRADA

9. No mundo árabe, países governados há décadas por regimes políticos centralizadores contabilizam metade da população com menos de 30 anos; desses, 56% têm acesso à internet. Sentindo-se sem perspectivas de futuro e diante da estagnação da economia, esses jovens incubam vírus sedentos por modernidade e democracia. Em meados de dezembro, um tunisiano de 26 anos, vendedor de frutas, põe fogo no próprio corpo em protesto por trabalho, justiça e liberdade. Uma série de manifestações eclode na Tunísia e, como uma epidemia, o vírus libertário começa a se espalhar pelos países vizinhos, derrubando em seguida o presidente do Egito, Hosni Mubarak. Sites e redes sociais – como o Facebook e o Twitter ajudaram a mobilizar manifestantes do norte da África a ilhas do Golfo Pérsico.

SEQUEIRA, C. D.; VILLAMÉA, L. A epidemia da Liberdade. Istoé Internacional. 2 mar. 2011 (adaptado).

Considerando os movimentos políticos mencionados no texto, o acesso à internet permitiu aos jovens árabes

- A) reforçar a atuação dos regimes políticos existentes
- B) tomar conhecimento dos fatos sem se envolver.
- C) manter o distanciamento necessário à sua segurança.
- D) disseminar vírus capazes de destruir programas dos computadores.
- E) **difundir ideias revolucionárias que mobilizaram a população.**

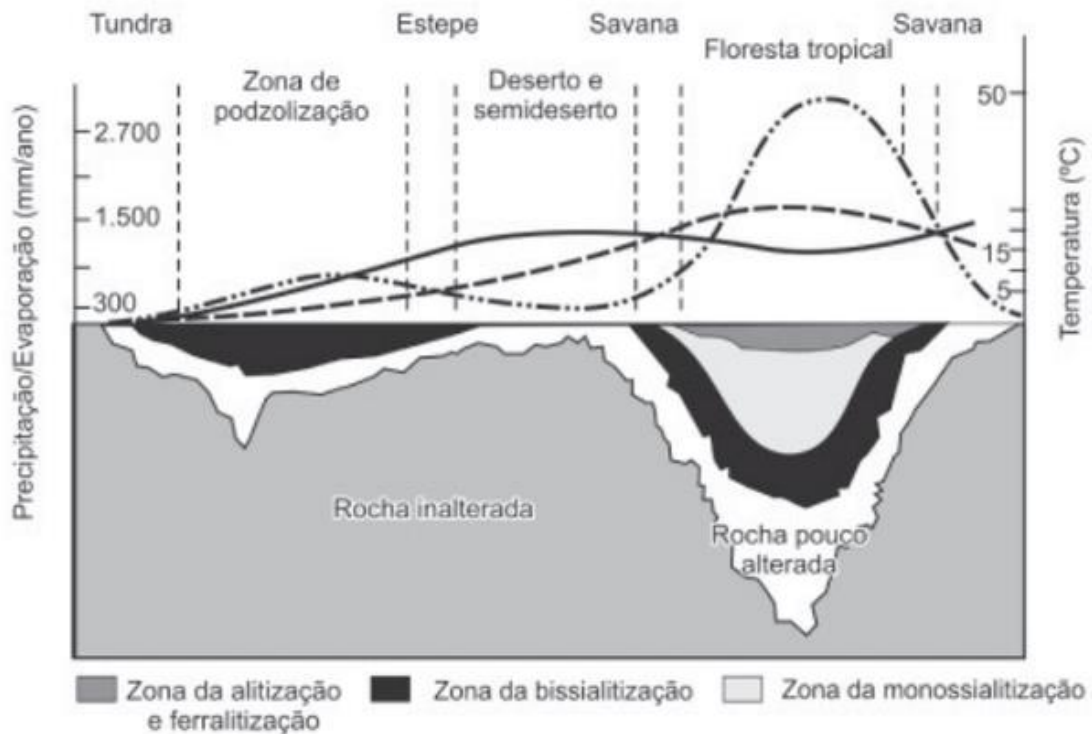
10. A Floresta Amazônica, com toda a sua imensidão, não vai estar aí para sempre. Foi preciso alcançar toda essa taxa de desmatamento de quase 20 mil quilômetros quadrados ao ano, na última década do século XX, para que uma pequena parcela de brasileiros se desse conta de que o maior patrimônio natural do país está sendo torrado. AB'SABER, A. Amazônia: do discurso à práxis. São Paulo: EdUSP, 1996.

Um processo econômico que tem contribuído na atualidade para acelerar o problema ambiental descrito é:

- A) Expansão do Projeto Grande Carajás, com incentivos à chegada de novas empresas mineradoras
- B) **Difusão do cultivo da soja com a implantação de monoculturas mecanizadas.**
- C) Construção da rodovia Transamazônica, com o objetivo de interligar a região Norte ao restante do país.
- D) Criação de áreas extrativistas do látex das seringueiras para os chamados povos da floresta.
- E) Ampliação do polo industrial da Zona Franca de Manaus, visando atrair empresas nacionais e estrangeiras.

SIMULADO AGOSTO GEOGRAFIA IRADA

11.



O gráfico relaciona diversas variáveis ao processo de formação do solo. A interpretação dos dados mostra que a água é um dos importantes fatores de pedogênese, pois nas áreas

- A. de clima temperado ocorrem alta pluviosidade e grande profundidade de solos.
- B. tropicais ocorre menor pluviosidade, o que se relaciona com a menor profundidade das rochas inalteradas.
- C. de latitudes em torno de 30° ocorrem as maiores profundidades de solo, visto que há maior umidade
- D. tropicais a profundidade do solo é menor, o que evidencia menor intemperismo químico da água sobre as rochas
- E. **de menor latitude ocorrem as maiores precipitações, assim como a maior profundidade dos solos**

12. O professor Paulo Saldiva pedala 6 km em 22 minutos de casa para o trabalho, todos os dias. Nunca foi atingido por um carro. Mesmo assim, é vítima diária do trânsito de São Paulo: a cada minuto sobre a bicicleta, seus pulmões são envenenados com 3,3 microgramas de poluição particulada – poeira, fumaça, fuligem, partículas de metal em suspensão, sulfatos, nitratos, carbono, compostos orgânicos e outras substâncias nocivas.

ESCOBAR, H. Sem Ar. O Estado de São Paulo. Ago. 2008.

A população de uma metrópole brasileira que vive nas mesmas condições socioambientais das do professor citado no texto apresentará uma tendência de

- A. ampliação da taxa de fecundidade
- B. **diminuição da expectativa de vida.**
- C. elevação do crescimento vegetativo.
- D. redução na proporção de jovens na sociedade.

SIMULADO AGOSTO GEOGRAFIA IRADA

E. aumento na participação relativa de idosos.

13. Por que a imagem acima é incoerente?



- a) Em tempos pré-históricos, os homens não caçavam répteis.
- b) Os dinossauros não eram presas fáceis para os humanos e dificilmente eram capturados.
- c) Os seres humanos surgiram no período quaternário da era Cenozoica, quando os dinossauros já haviam sido extintos.**
- d) Quando os dinossauros surgiram, no terciário, os seres humanos não viviam mais da caça, e sim da agricultura.
- e) Os dinossauros viveram na era Paleozoica e os seres humanos na era primária em diante, que são períodos geológicos distintos.

14. Sobre o relevo brasileiro, marque a afirmativa correta.

- A) O relevo brasileiro é dividido em planaltos, planícies e depressões, cuja formação data de milhões de anos na escala geológica da Terra; tem sido moldado pelos processos endógenos e exógenos.**
- B) A planície amazônica abarca a maior disponibilidade hídrica do país, possui poucas reservas consideráveis para o extrativismo mineral e vegetal; entretanto seus problemas ambientais consistem no desmatamento e queimadas.
- C) Os planaltos brasileiros, em sua maioria localizados no litoral brasileiro e com problemas de transgressão marinha, são utilizados no cultivo de monocultura de grãos.
- D) Três grandes pesquisadores contribuíram com a classificação do relevo brasileiro: Aroldo de Azevedo na década de 1940, Aziz Nacib Ab`Saber na década de 1960 e Milton Santos na década de 1990.
- E) As maiores altitudes se encontram na porção meridional do território brasileiro.

15. Um fator que contribuiu decisivamente para o processo de industrialização na Inglaterra do século XVIII foi:

- a) a acumulação de capital resultante da exploração colonial praticada pela Inglaterra através do comércio.**
- b) a concorrência tecnológica entre ingleses e americanos, que estimulou o desenvolvimento econômico.
- c) a expulsão das tropas napoleônicas do território inglês, que uniu os interesses nacionais em torno de um esforço de desenvolvimento.
- d) o movimento ludista na Inglaterra com a destruição das máquinas consideradas obsoletas, ao incentivar a invenção de novas máquinas.
- e) a abertura de mercados na Alemanha e na França para a Inglaterra, por meio de um acordo comercial conhecido por Pacto de Berlim.

16. A "Guerra Fria" foi a expressão utilizada para caracterizar um tipo de política externa decorrente da:

- a) Polarização do mundo em dois blocos político-militares, entre as duas guerras mundiais.


SIMULADO AGOSTO GEOGRAFIA IRADA

- b) Polarização do mundo em blocos interessados na exploração e posse da Sibéria.
- c) Polarização do mundo em dois blocos político-militares, após a Segunda Guerra Mundial.**
- d) Polarização do mundo em dois blocos liderados pela Alemanha, Itália e Japão. De um lado a Inglaterra, Rússia, Estados Unidos e França de outro.
- e) A disputa das áreas árticas e antárticas, após a Segunda Guerra Mundial.

17. "Naquela época não tinha maquinaria, meu pai trabalhava na enxada. Meu pai era de Módena, minha mãe era de Capri e ficaram muito tempo na roça. Depois a família veio morar nessa travessa da avenida Paulista; agora está tudo mudado, já não entendo nada dessas ruas". Esse trecho de um depoimento de um descendente de imigrante, transcrito na obra *Memória e Sociedade*, de Ecléa Bosi, constitui um documento importante para a análise.

- a) do processo de crescimento urbano paulista no início do século atual, que desencadeou crises constantes entre fazendeiros de café e industriais.
- b) da imigração europeia para o Brasil, organizada pelos fazendeiros de café nas primeiras décadas do século XX, baseada em contratos de trabalho conhecidos como "sistema de parceria".
- c) da imigração italiana, caracterizada pela contratação de mão-de-obra estrangeira para a lavoura cafeeira, e do posterior processo de migração e de crescimento urbano de São Paulo.**
- d) do percurso migratório italiano promovido pelos governos italiano e paulista, que organizavam a transferência de trabalhadores rurais para o setor manufatureiro.
- e) da crise na produção cafeeira da primeira década do século XX, que forçou os fazendeiros paulistas a desempregar milhares de imigrantes italianos, acelerando o processo de industrialização

18. No I Congresso Mundial das Raças, ocorrido em Londres em 1911, o médico João Baptista de Lacerda ilustrou suas reflexões sobre a sociedade brasileira analisando a tela "A redenção de Cam", que retrata três gerações de uma família.



Essa pintura foi utilizada na época para indicar a seguinte tendência demográfica no Brasil:

- a) controle de natalidade
- b) branqueamento da população**
- c) equilíbrio entre faixas etárias

SIMULADO AGOSTO GEOGRAFIA IRADA

- d) segregação dos grupos étnicos
- e) aumento da natalidade

19. O conceito de *função social da cidade* incorpora a organização do espaço físico como fruto da regulação social, isto é, a cidade deve contemplar todos os seus moradores e não somente aqueles que estão no mercado formal da produção capitalista da cidade. A tradição dos códigos de edificação, uso e ocupação do solo no Brasil sempre partiram do pressuposto de que a cidade não tem divisões entre os incluídos e os excluídos socialmente.

QUINTO JR., L. P. Nova legislação urbana e os velhos fantasmas. *Estudos Avançados (USP)*, n. 47, 2003 (adaptado).

Uma política governamental que contribui para viabilizar a função social da cidade, nos moldes indicados no texto, é a

a) qualificação de serviços públicos em bairros periféricos.

- b) implantação de centros comerciais em eixos rodoviários.
- c) proibição de construções residenciais em regiões íngremes.
- d) disseminação de equipamentos culturais em locais turísticos.
- e) desregulamentação do setor imobiliário em áreas favelizadas.

20. Um carro esportivo é financiado pelo Japão, projetado na Itália e montado em Indiana, México e França, usando os mais avançados componentes eletrônicos, que foram inventados em Nova Jérsei e fabricados na Coreia. A campanha publicitária é desenvolvida na Inglaterra, filmada no Canadá, a edição e as cópias, feitas em Nova York para serem veiculadas no mundo todo. Teias globais disfarçam-se com o uniforme nacional que lhes for mais conveniente

A viabilidade do processo de produção ilustrado pelo texto pressupõe o uso de

- A) linhas de montagem e formação de estoques
- B) empresas burocráticas e mão de obra barata
- C) controle estatal e infraestrutura consolidada
- D) organização em rede e tecnologia de informação**
- E) gestão centralizada e protecionismo econômico